


(1) なし<sup>●</sup>は いくつ ありますか。

よし、もう ひとふんばり!



かけ算の しきに あらわして みましょう。



しき

(2) (1)のしきを 九九を つかって もとめましょう。

自分が かんがえた しきを かき、こたえを もとめましょう。



九九をつかったしき

こたえ

(3) つぎの かけ算の しきの こたえを、九九を つかって もとめ しょう。

①  $11 \times 11$

②  $12 \times 12$



☆家の人のしるし

(1) つぎの かけ算の こたえを もとめましょう。

- ①  $5 \times 7$                       ②  $4 \times 8$                       ③  $8 \times 3$                       ④  $9 \times 6$

- ⑤  $2 \times 13$                       ⑥  $3 \times 6$                       ⑦  $4 \times 12$                       ⑧  $7 \times 8$

(2) つぎの もんだいの こたえを もとめましょう。

⑨ 8こ入りの なしの ふくろが 3ふくろ  
あります。5こ たべると のこりは い  
くつ でしょう。

しき
こたえ

⑩ 9こ入りの チョコレートの はこが 4  
はこ あります。5こ入りの クッキーの  
はこが 3はこ あります。チョコレート  
と クッキーを あわせると ぜんぶで  
なんこに なるでしょう。

しき
こたえ

とっとりけん  
《鳥取県の 日本一を さがそう》



鳥取県の 1世帯(1かぞく) あたりが

1年間に 日本一 おおく かつている のみものは なにか  
な？



ヒント：①インスタントや かんでも うられているよ。

②あつい ものも つめたい ものも あるよ。

☆家の人のしるし

--